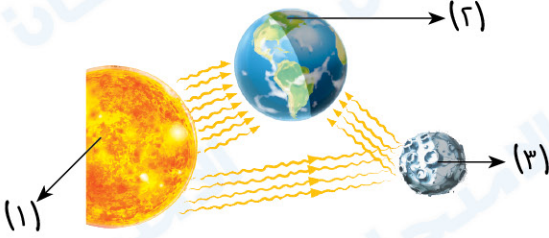


1 اختبار

أولاً : الجغرافيا



1

تأمل الشكل الذي أمامك، ثم أجب عما يأتي :

1 رقم (1) يمثل

2 رقم (2) يمثل

3 رقم (3) يمثل

4 يدور الجسم رقم (2) حول الجسم رقم

2

اختر الإجابة الصحيحة مما بين القوسين :

1 نراها تجرى في السماء على هيئة سهام ضوئية

2 يُعد كوكب أقرب الكواكب للشمس .

3 خرج كوكب من كوكب المجموعة الشمسية بعد الإعلان في العاصمة التشيكية (براغ) عام ٢٠٠٦م .

4 تُعد مجرة سكة التبانة من النوع

(البيضاوى - الحلزوني - الدائري - غير المنتظم)

ثانياً : التاريخ

3 اكتب كلمة (صواب) أمام العبارة الصحيحة، وكلمة (خطأ) أمام العبارة غير الصحيحة :

1 تغيير أسلوب العمارة للمقابر الملكية في عصر الدولة القديمة. ()

2 اهتم سكان المدن بإقامة الأسوار لحمايتها من الأخطار الخارجية. ()

3 يُطلق اسم «عصر بناء الأهرام» على الفترة التي تبدأ بقيام الأسرة الثالثة وتنتهي بالأسرة الخامسة. ()

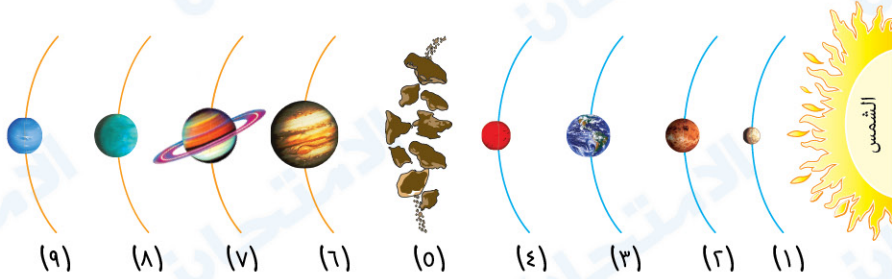
4 استخرج المصري القديم النحاس من بلاد النوبة. ()

4 دُل تاريخياً على صحة العبارة الآتية :

مر التدرج نحو الوحدة السياسية في مصر قديماً بعدة مراحل .

أولاً : الجغرافيا

١ أمامك شكل تخطيطي للمجموعة الشمسية، ادرسه ثم أجب عما يأتي :



١ يمثل رقم (٥)

٢ كوكب رقم (٤) يسمى بالكوكب الأحمر لأنه غني ب.....

٣ كوكب رقم (٨) يشبه في تركيبه العام كوكبي

٤ يطلق على كوكب رقم (٢) اسم

٢ اكتب كلمة (صواب) أمام العبارة الصحيحة وكلمة (خطأ) أمام العبارة غير الصحيحة، مع التصويب :

١ تُعد السدم أجسام غازية تنشأ في غالبيتها من انفجار النجوم. ()

٢ يتكون كوكب عطارد من مواد غازية. ()

٣ يدور كوكب المشتري حول الشمس مرة كل ١٢ سنة أرضية. ()

ثانياً : التاريخ

٣ اختر الإجابة الصحيحة مما بين القوسين :

١ يرتبط تمثال أبو الهول باسم الملك (خوفو - خفرع - سنفرو - منكاورع)

٢ بنى المصري القديم مسكنه من الطوب اللبن في العصر

(الحجري القديم - الحجري الحديث - النحاسي - العتيق)

٣ اتخذت مملكة الشمال من شعاراً لها.

(نبات البردي - زهرة اللوتس - ثعبان الكوبرا - نبات الكتان)

٤ سكن المصري القديم في العصر الحجري القديم

(الكهوف - الخيام - الأكواخ - المنازل)

٤ حدد الأثر الناتج عن : ظهور أسرة أهناسيا في عصر الاضمحلال الأول.

1 إجابة اختبار

- ١ ١ الشمس. ٢ الأرض. ٣ القمر. ٤ (١١)
- ٢ ٢ الشهب. ٢ عطارد. ٣ بلوتو. ٤ الحلزوني.
- ٣ ١ صواب. ٢ صواب. ٣ خطأ. ٤ خطأ.

٤ حيث :

- نشأت القرى بعد نزول المصرى القديم ليعيش بجوار نهر النيل وتعلم الزراعة والاستقرار وشيد أكواخاً وبيوتاً صغيرة.
- ظهرت المدن نتيجة اتساع القرى وكثرة سكانها.
- نشأت الأقاليم المستقلة من تجمع القرى والمدن.
- تحققت الوحدة الأولى عام ٤٢٤٢ ق.م.

2 إجابة اختبار

- ١ ١ حزام الكويكبات. ٢ أكاسيد الحديد حمراء اللون. ٣ زحل والمشتري. ٤ توءم الأرض.
- ٢ ١ صواب. ٢ خطأ : ... صلبة. ٣ صواب.
- ٣ ١ خفرع. ٢ النحاسى. ٣ نبات البردى. ٤ الكهوف.

٤ حيث قامت ب :

- طرد الغزاة (الآسيويين) من البلاد.
- إعادة الاستقرار للبلاد.
- تأسيس الأسرتين الـ (٩، ١٠) والذي تميز عصرهما بالازدهار والرخاء.



تقييم الشهر الأول

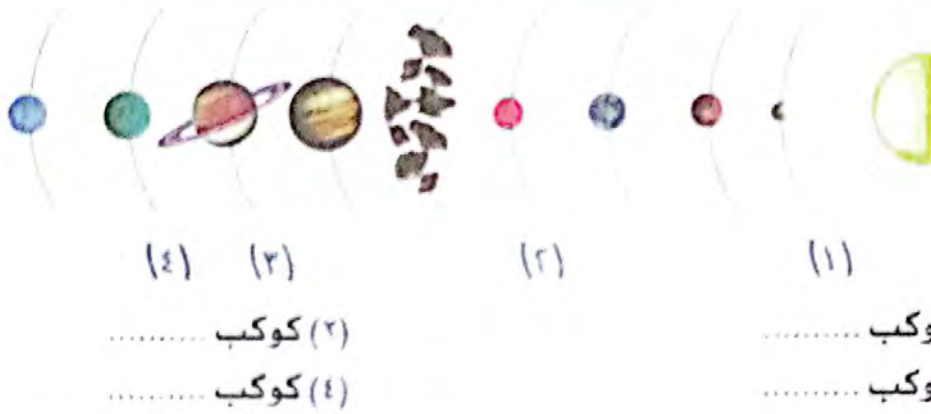
١

تدريب تقييمي

أولاً الجغرافيا

أجب عن الأسئلة الآتية:

١ أمامك شكل تخطيطي للمجموعة الشمسية، اكتب ما تدل عليه الأرقام:



٢ اختر الإجابة الصحيحة مما بين القوسين:

(١) تحترق كلياً عند احتكاكها بالغلاف الجوي للأرض.

(السدم - الشهب - النيازك - الأقمار)

(٢) تحتوى بداخلها على أجسام فضائية متنوعة

(المجرات - النجوم - الكواكب - النيازك)

(٣) تسير الكواكب بسرعة هائلة ولا تتصادم بسبب

(صغراًحجامها - الجاذبية الأرضية - قلة الأقمار - المسار المحدد)

ثانياً التاريخ

٣ اكتب كلمة (صواب) أمام العبارة الصحيحة، وكلمة (خطأ) أمام العبارة غير الصحيحة، مع التصويب:

() (١) ظهرت العبادات مثل تقديس بعض الحيوانات في العصر الحجري الحديث.

() (٢) كانت مدينة بوتو عاصمة مملكة الشمال.

() (٣) ارتبط اسم تمثال أبو الهول بالملك خوفو.

() (٤) أقام ملوك الأسرة الرابعة معابد الشمس في أبي صير.

٤ ماذا كان يحدث إذا: لم يحل الجفاف بالهضاب المصرية في العصر الحجري القديم؟

أجب عن الأسئلة الآتية: **أولاً الجغرافيا**

١ صوب الخطأ في كل عبارة من العبارات الآتية :

- (١) تدور الشمس حول الكواكب في مدارات محددة ببيضاوية الشكل.
- (٢) تتكون النجوم من مواد صخرية.
- (٣) تتكون الحلقات الحلزونية حول كوكب المشتري من أجسام صخرية وجليدية.

٢ اكتب ما تشير إليه كل عبارة مما يأتي :

- (١) أجسام غازية تظهر في السماء على شكل سحابة من الغبار.
- (٢) كواكب بعيدة عن الشمس وأحجامها كبيرة وتتكون معظمها من مواد غازية.

ثانياً التاريخ

٣ اختر الإجابة الصحيحة مما بين القوسين :

- (١) كانت عاصمة لمصر بعد الوحدة الأولى مدينة
- (أون - بوتو - نخب - منف)
- (٢) شيد ملوك الدولة القديمة أهرامات امتدت من إقليم الفيوم جنوباً إلى شمالاً.
- (أسيوط - المنيا - الجيزة - بني سويف)
- (٣) نجح الإنسان عام ٣٣٥٠ ق.م في معرفة
- (الزراعة - النار - التجارة - الكتابة)
- (٤) بنى المصري القديم مسكنه من في العصر النحاسي.
- (الحجر - الخشب - الطوب اللين - الرخام)

٤ ما العلاقة بين :

الأهرامات، واعتقاد المصري القديم في البعث والخلود ؟

اختبارات 2024

نموذج (١)

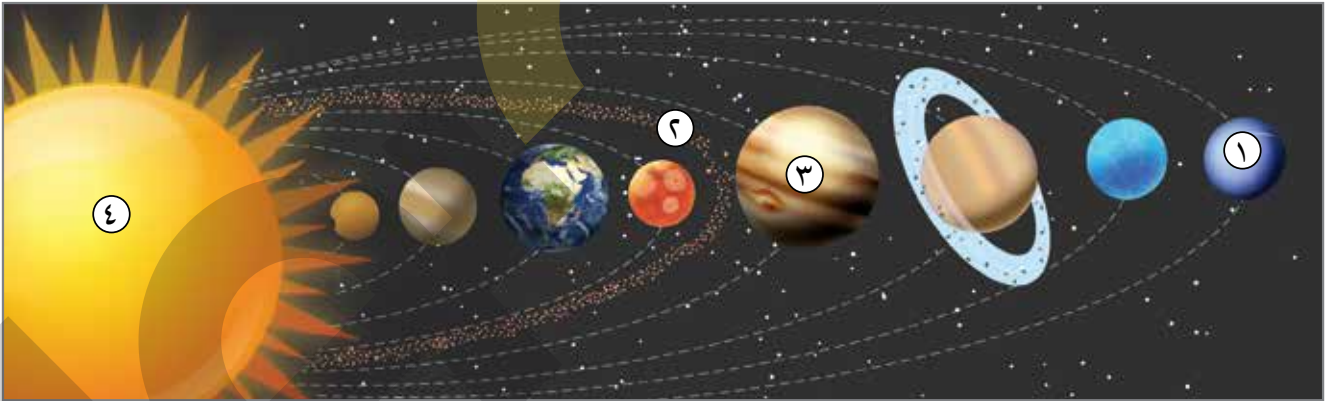
السؤال الأول

اختر الإجابة الصحيحة مما بين الأقواس :

- ١ أبعد الكواكب الداخلية عن الشمس (عطارد- المريخ- الزهرة - الأرض)
- ٢ تبدو الشهب في السماء على هيئة (نجوم مضيئة - سهام ضوئية - حلقات حلزونية - كواكب منتظمة)
- ٣ توجد حلقات حلزونية حول كوكب (زحل - المشتري - نبتون - المريخ)
- ٤ عندما فشلت الوحدة الأولى لمصر عام ٤٢٤٢ ق.م نتج عنها (اختيار مدينة أون عاصمة - انقسام البلاد إلى مملكتين - ظهور المدن - بداية العصر العتيق)
- ٥ ارتبطت تسمية عصر الدولة القديمة بعصر بناء الأهرامات، وذلك بسبب اهتمام حكام هذا العصر بالأعمال (السياسية - العسكرية - العمرانية - الثقافية)
- ٦ بنى ملوك الأسرة معابد الشمس. (الأولى - الثالثة - الرابعة - الخامسة)

السؤال الثاني

أمامك صورة توضح المجموعة الشمسية، اكتب مدلول الأرقام الموضحة عليها:



- ١ كوكب
- ٢ يمثل رقم (٢)
- ٣ كوكب
- ٤ يمثل رقم (٤)

السؤال الثالث

ما العلاقة بين ... ؟ أكاسيد الحديد وكوكب المريخ.

.....

نموذج (٢)

السؤال الأول

لاحظ الصورة التي أمامك جيدًا، ثم أجب:

- ١ ما اسم هذا الأثر؟
- ٢ بنى في منطقة
- ٣ ينتمي إلى الأسرة

السؤال الثاني

صوب ما تحته:

- ١ يعكس الكوكب ضوء الشمس الساقط عليه.
- ٢ تتميز الكواكب الخارجية بصغر حجمها.
- ٣ أنثى النسر هو المعبود لمملكة الشمال.
- ٤ تعرضت مصر لهجمات الهكسوس خلال حكم الأسرتين السابعة والثامنة.

السؤال الثالث

اختر الإجابة الصحيحة مما بين الأقواس:

- ١ أسس الملك سنفرو الأسرة
 - ٢ هناك علاقة بين ألوان النجوم و.....
- (الأولى - الثانية - الثالثة - الرابعة)
(شكلها - حجمها - سرعتها - حرارتها)

السؤال الرابع

بم تفسر...؟

- سميت مجرتنا بالدرب اللبني.

نموذج (٣)

السؤال الأول

أمامك شكل يوضح المجموعة الشمسية، حدد مدلول الأرقام الموضحة عليه:



- ١ يشير رقم (١) إلى كوكب
- ٢ يشير رقم (٢) إلى كوكب
- ٣ يشير رقم (٣) إلى
- ٤ يشير رقم (٤) إلى كوكب

السؤال الثاني

اختر الإجابة الصحيحة مما بين الأقواس:

- ١ يعرف كوكب بالكوكب الأحمر. (عطارد - الزهرة - المشتري - المريخ)
- ٢ كوكب أكبر كواكب المجموعة الشمسية. (زحل - نبتون - المشتري - أورانوس)
- ٣ ظهرت فكرة تقديس بعض الحيوانات عند المصري القديم في العصر..... (الحجري القديم - الحجري الحديث - النحاسي - المتأخر)
- ٤ يطلق على عصر الأسترين الأولى والثانية اسم (العصر الحجري القديم - العصر العتيق - العصر النحاسي - العصر الحجري الحديث)

السؤال الثالث

اكتب كلمة (صواب) أمام العبارة الصحيحة، وكلمة (خطأ) أمام العبارة غير الصحيحة:

- ١ مجرتنا من النوع البيضاوى. (.....)
- ٢ قامت أول وحدة في مصر عام ٤٢٤٢ ق.م على يد أحد حكام الوجه القبلى. (.....)
- ٣ نجح ملوك إهناسيا في طرد الغزاة الآسيويين من مصر. (.....)

السؤال الرابع

بم تفسر...؟ ترك الإنسان المصرى الهضاب.

نموذج (٤)

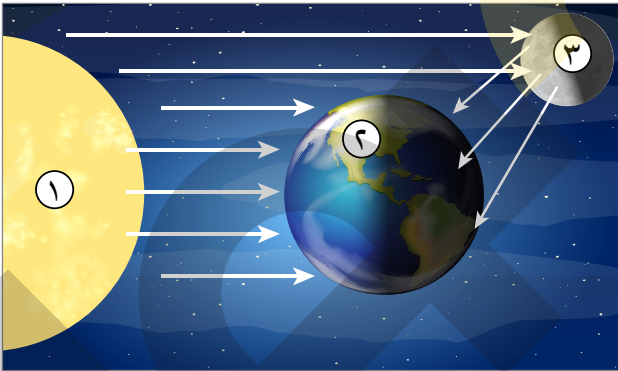
السؤال الأول

اختر الإجابة الصحيحة مما بين الأقواس:

- ١ تحتوي بداخلها على أجسام فضائية متنوعة (النجوم - المجرات - النيازك - الكواكب)
- ٢ أكبر كواكب المجموعة الشمسية (المشتري - المريخ - زحل - أورانوس)
- ٣ يعد كوكب أسرع الكواكب في الدوران حول الشمس. (الزهرة - الأرض - المشتري - عطارد)
- ٤ اتخذ المصري القديم من مدينة عاصمة لمملكة الشمال. (بوتو - نخب - أون - منف)
- ٥ احتل مصري في عصر الاضمحلال الأول. (الهكسوس - الآسيويون - الليبيون - النوبيون)
- ٦ ازداد نفوذ كهنة الإله رع في أواخر عصر الأسرة (الثالثة - الرابعة - الأولى - الثانية)

السؤال الثاني

تأمل الشكل الذي أمامك، ثم أجب عما يلي:



- ١ يستمد الجسم رقم (٢) ضوءه من الجسم رقم
- ٢ يعتبر الجسم رقم نجمًا.
- ٣ يدور الجسم رقم (٣) حول الجسم رقم
- ٤ يشير الجسم رقم (٢) إلى

السؤال الثالث

ما النتائج المترتبة على .. انفجار النجوم.

نموذج (هـ)

السؤال الأول

اكتب كلمة (صواب) أمام العبارة الصحيحة، وكلمة (خطأ) أمام العبارة غير الصحيحة:

- ١ تدور الكواكب حول الشمس في مدار دائري. (.....)
- ٢ يعد كوكب الزهرة توأم كوكب الأرض. (.....)
- ٣ كان شعار مملكة الجنوب نبات البردى. (.....)
- ٤ أمن الملك سنفرو حدود مصر الجنوبية والغربية. (.....)


السؤال الثاني

اختر الإجابة الصحيحة مما بين الأقواس:

- ١ الجسم الفضائي الوحيد الذي يصل إلى الأرض (النيازك - الشهب - السدم - الأقمار)
- ٢ كانت أولى خطوات المصريين القدماء نحو تحقيق الوحدة السياسية نشأة (المدن - الأقاليم المستقلة - القرى - مملكة الشمال)
- ٣ أشرف على بناء هرم سقارة المدرج الوزير (زوسر - سنفرو - إيمحوتب - خوفو)

السؤال الثالث

أمامك صورة توضح المجموعة الشمسية، اكتب مدلول الأرقام الموضحة عليها:



- ١ يمثل رقم (١)
- ٢ يمثل رقم (٢)
- ٣ يمثل رقم (٣)
- ٤ يمثل رقم (٤)

السؤال الرابع

بم تفسر...؟ ضعف وانهايار الدولة القديمة.

.....

إجابة نموذج (١)

السؤال الأول

١ المريخ

٣ زحل

٥ العمرانية

السؤال الثاني

١ كوكب نبتون

٣ كوكب المشترى

السؤال الثالث

- تربة كوكب المريخ غنية بأكاسيد الحديد الحمراء؛ لذا يسمى بالكوكب الأحمر.

٢ سهام ضوئية

٤ انقسام البلاد إلى مملكتين

٦ الخامسة

٢ حزام الكويكبات

٤ نجم الشمس

إجابة نموذج (٢)

السؤال الأول

١ الهرم المدرج (هرم زوسر المدرج)

٣ الثالثة

السؤال الثاني

١ القمر

٣ ثعبان الكوبرا

السؤال الثالث

١ الرابعة

السؤال الرابع

- لأنها تشبه البن المسكوب.

٢ سقارة

٢ بكبر

٤ الآسيويين

٢ حرارتها

إجابة نموذج (٣)

السؤال الأول

١ الزهرة

٣ حزام الكويكبات

السؤال الثاني

١ المريخ

٣ النحاسي

السؤال الثالث

١ (خطأ)

٣ (صواب)

السؤال الرابع

بسبب حلول الجفاف فوق الهضاب.

٢ الأرض

٤ المشتري

٢ المشتري

٤ العصر العتيق

٢ (خطأ)

إجابة نموذج (٤)

السؤال الأول

١ المجرات

٣ عطارد

٥ الآسيويين

السؤال الثاني

١ (١)

٣ (٢)

السؤال الثالث

- نشأة السدم.

٢ المشتري

٤ بوتو

٦ الرابعة

٢ (١)

٤ كوكب الأرض

إجابة نموذج (هـ)

السؤال الأول

١ (خطأ)

٣ (خطأ)

السؤال الثاني

١ النيازك

٣ إيمحوتب

السؤال الثالث

١ نجم الشمس

٣ أورانوس

السؤال الرابع

٢ (صواب)

٤ (خطأ)

٢ القرى

٢ نبتون

٤ زحل

- بسبب قلة هيبة الملوك، وزيادة نفوذ حكام الأقاليم، وتفكك وحدة البلاد، وانتهيار سلطة الحكومة المركزية.

اختبارات 2023

نموذج (١)



السؤال الأول

أمامك شكل يوضح المجموعة الشمسية، حدد مدلول الأرقام الموضحة عليه:

- ١ يشير رقم (١) إلى كوكب
- ٢ يشير رقم (٢) إلى كوكب
- ٣ يشير رقم (٣) إلى
- ٤ يشير رقم (٤) إلى كوكب

السؤال الثاني

اختر الإجابة الصحيحة مما بين الأقواس:

- ١ يعرف كوكب بتوأم الأرض. (عطارد - الزهرة - المشتري - المريخ)
- ٢ كوكب أكبر كواكب المجموعة الشمسية. (زحل - نبتون - المشتري - أورانوس)
- ٣ ظهرت فكرة تقديس بعض الحيوانات عند المصري القديم في العصر..... (الحجري القديم - الحجري الحديث - النحاسي - المتأخر)
- ٤ يطلق على عصر الأسترين الأولى والثانية اسم (العصر الحجري القديم - العصر العتيق - العصر النحاسي - العصر الحجري الحديث)

السؤال الثالث

اكتب كلمة (صواب) أمام العبارة الصحيحة، وكلمة (خطأ) أمام العبارة غير الصحيحة:

- ١ مجرتنا من النوع البيضاوى. (.....)
- ٢ قامت أول وحدة في مصر عام ٤٢٤٢ ق.م على يد أحد حكام الوجه القبلى. (.....)
- ٣ نجح ملوك إهناسيا في طرد الغزاة الآسيويين من مصر. (.....)

السؤال الرابع

بم تفسر...؟ ترك الإنسان المصري الهضاب.

.....

نموذج (٢)

السؤال الأول

اختر الإجابة الصحيحة مما بين الأقواس:

- ١ تستمد الأقمار ضوءها من
 - ٢ مجرة سكة التبانة مجرة شكلها
 - ٣ من الكواكب الداخلية كوكب
 - ٤ يعد كوكب أسرع الكواكب في الدوران حول الشمس.
 - ٥ اتخذ المصري القديم من مدينة عاصمة لمملكة الشمال.
 - ٦ احتل مصري عصر الاضمحلال الأول.
 - ٧ ازداد نفوذ كهنة الإله رع في أواخر عصر الأسرة
- (النجوم - الأرض - الكواكب - السدم)
(دائري - بيضاوي - منتظم الشكل - حلزوني)
(المشتري - المريخ - زحل - أورانوس)
(الزهرة - الأرض - المشتري - عطارد)
(بوتو - نخب - أون - منف)
(الهكسوس - الآسيويون - الليبيون - النوبيون)
(الثالثة - الرابعة - الأولى - الثانية)

السؤال الثاني

تأمل الشكل الذي أمامك، ثم أجب عما يلي:

- ١ يستمد الجسم رقم (٢) ضوءه من الجسم رقم
- ٢ يعتبر الجسم رقم نجمًا.
- ٣ يدور الجسم رقم (٣) حول الجسم رقم
- ٤ يدل الجسم رقم (٢) على

السؤال الثالث

ما العلاقة بين ..؟ النجوم والسدم.

.....

نموذج (٣)

السؤال الأول

اكتب كلمة (صواب) أمام العبارة الصحيحة، وكلمة (خطأ) أمام العبارة غير الصحيحة:

- ١ تدور الكواكب حول الشمس في مدار دائري. (.....)
- ٢ يعد كوكب الزهرة توءم كوكب الارض. (.....)
- ٣ كان شعار مملكة الجنوب نبات البردى. (.....)
- ٤ أمّن الملك سنفرو حدود مصر الجنوبية والغربية. (.....)

السؤال الثاني

اختر الإجابة الصحيحة مما بين الأقواس:

- ١ تبدو..... في السماء على هيئة سهام ضوئية. (النيازك - الشهب - السدم - الأقمار)
- ٢ كانت أولى خطوات المصريين القدماء نحو تحقيق الوحدة السياسية نشأة..... (المدن - الأقاليم المستقلة - القرى - مملكة الشمال)
- ٣ أشرف على بناء هرم سقارة المدرج الوزير..... (زوسر - سنفرو - إيمحوتب - خوفو)

السؤال الثالث

أمامك صورة توضح المجموعة الشمسية، اكتب مدلول الأرقام الموضحة عليها:



- ١ يمثل رقم (١).....
- ٢ يمثل رقم (٢).....
- ٣ يمثل رقم (٣).....
- ٤ يمثل رقم (٤).....

السؤال الرابع

ما النتائج المترتبة على...؟ احتكاك النيازك بالغلاف الجوي للأرض.

.....

إجابة نموذج (١)



السؤال الأول

أمامك شكل يوضح المجموعة الشمسية، حدد مدلول الأرقام الموضحة عليه:

- ١ يشير رقم (١) إلى كوكب الزهرة.
- ٢ يشير رقم (٢) إلى كوكب الأرض.
- ٣ يشير رقم (٣) إلى حزام الكويكبات.
- ٤ يشير رقم (٤) إلى كوكب المشتري.

السؤال الثاني

اختر الإجابة الصحيحة مما بين الأقواس:

- ١ يعرف كوكب بتوءم الأرض.
 - ٢ كوكب أكبر كواكب المجموعة الشمسية.
 - ٣ ظهرت فكرة تقديس بعض الحيوانات عند المصري القديم في العصر.....
 - ٤ يطلق على عصر الأسترين الأولى والثانية اسم
- (عطارد - الزهرة - المشتري - المريخ)
(زحل - نبتون - المشتري - أورانوس)
(الحجري القديم - الحجري الحديث - النحاسي - المتأخر)
(العصر الحجري القديم - العصر النحاسي - العصر الحجري الحديث)

السؤال الثالث

اكتب كلمة (صواب) أمام العبارة الصحيحة، وكلمة (خطأ) أمام العبارة غير الصحيحة:

- ١ مجرتنا من النوع البيضاوي. (خطأ)
- ٢ قامت أول وحدة في مصر عام ٤٢٤٢ ق.م على يد أحد حكام الوجه القبلي. (خطأ)
- ٣ نجح ملوك إهناسيا في طرد الغزاة الآسيويين من مصر. (صواب)

السؤال الرابع

بم تفسر...؟ ترك الإنسان المصري الهضاب.
بسبب حلول الجفاف فوق الهضاب.

إجابة نموذج (٢)

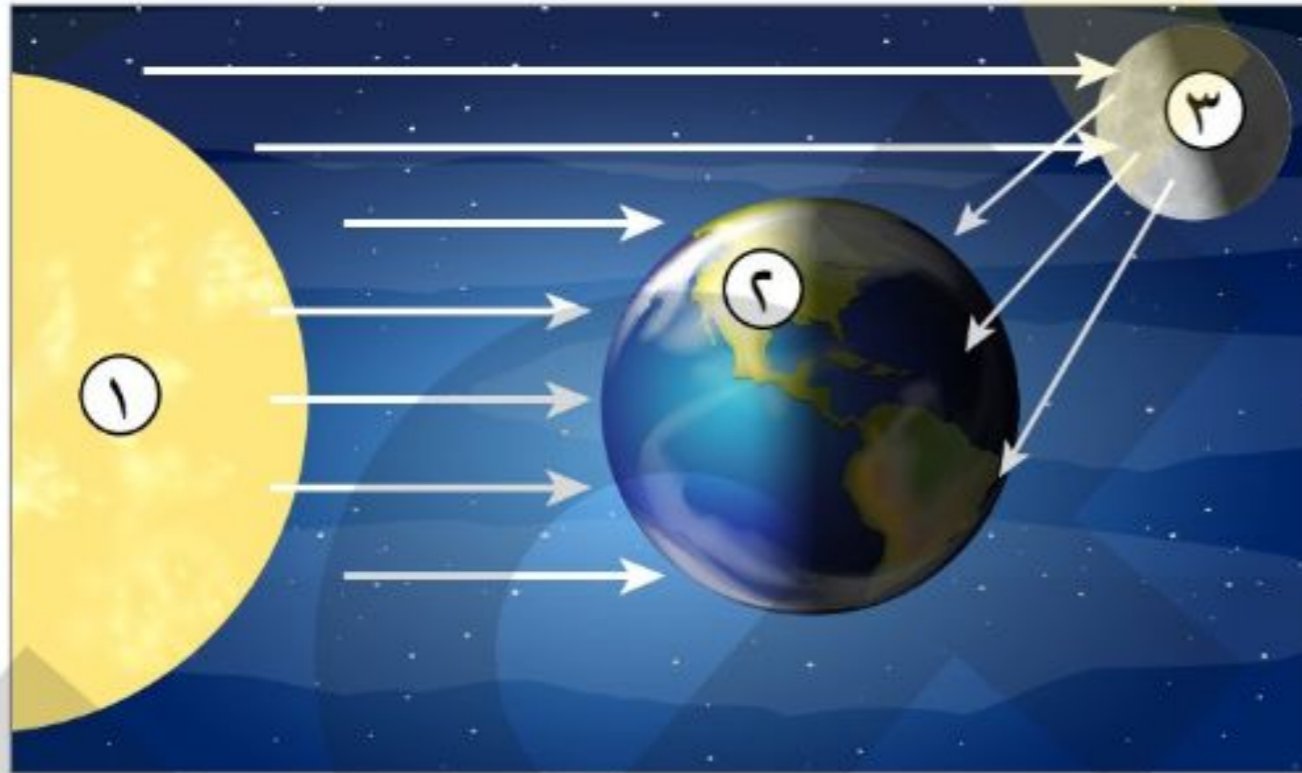
السؤال الأول

اختر الإجابة الصحيحة مما بين الأقواس:

- ١ تستمد الأقمار ضوءها من
 - ٢ مجرة سكة التبانة مجرة شكلها
 - ٣ من الكواكب الداخلية كوكب
 - ٤ يعد كوكب أسرع الكواكب في الدوران حول الشمس.
 - ٥ اتخذ المصري القديم من مدينة عاصمة لمملكة الشمال.
 - ٦ احتل مصر في عصر الاضمحلال الأول.
 - ٧ ازداد نفوذ كهنة الإله رع في أواخر عصر الأسرة
- (النجوم - الأرض - الكواكب - السدم)
(دائري - بيضاوي - منتظم الشكل - حلزوني)
(المشتري - المريخ - زحل - أورانوس)
(الزهرة - الأرض - المشتري - عطارد)
(بوتو - نخب - أون - منف)
(الهكسوس - الآسيويون - الليبيون - النوبيون)
(الثالثة - الرابعة - الأولى - الثانية)

السؤال الثاني

تأمل الشكل الذي أمامك، ثم أجب عما يلي:



- ١ يستمد الجسم رقم (٢) ضوءه من الجسم رقم (١).
- ٢ يعتبر الجسم رقم (١) نجمًا.
- ٣ يدور الجسم رقم (٣) حول الجسم رقم (٢).
- ٤ يدل الجسم رقم (٢) على كوكب الأرض.

السؤال الثالث

ما العلاقة بين ..؟ النجوم والسدم.
تنشأ السدم نتيجة لانفجار النجوم.

إجابة نموذج (٣)

السؤال الأول

اكتب كلمة (صواب) أمام العبارة الصحيحة، وكلمة (خطأ) أمام العبارة غير الصحيحة:

- ١ تدور الكواكب حول الشمس في مدار دائري. (خطأ)
- ٢ يعد كوكب الزهرة توأم كوكب الأرض. (صواب)
- ٣ كان شعار مملكة الجنوب نبات البردي. (خطأ)
- ٤ أمّن الملك سنفرو حدود مصر الجنوبية والغربية. (خطأ)


السؤال الثاني

اختر الإجابة الصحيحة مما بين الأقواس:

- ١ تبدو في السماء على هيئة سهام ضوئية. (النيازك - الشهب - السدم - الأقمار)
- ٢ كانت أولى خطوات المصريين القدماء نحو تحقيق الوحدة السياسية نشأة (المدن - الأقاليم المستقلة - القرى - مملكة الشمال)
- ٣ أشرف على بناء هرم سقارة المدرج الوزير (زوسر - سنفرو - إيمحوتب - خوفو)

السؤال الثالث

أمامك صورة توضح المجموعة الشمسية، اكتب مدلول الأرقام الموضحة عليها:



- ١ يمثل رقم (١) الشمس .
- ٢ يمثل رقم (٢) نبتون .
- ٣ يمثل رقم (٣) أورانوس .
- ٤ يمثل رقم (٤) زحل .

السؤال الرابع

ما النتائج المترتبة على ...؟ احتكاك النيازك بالغلاف الجوي للأرض.

أدى إلى احتراقها جزئياً وسقوط أجزاء منها على سطح الأرض مكونة حفراً عميقة ودماراً شديداً .

نموذج إمتحان

1

الوحدة



اكتب ما تنتنير إليه كل عبارة من العبارات الآتية:

السؤال الأول

١- أجسام سماوية صلبة صغيرة الحجم تسبح في الفضاء حول الشمس

.....

٢- كوكب خارجي يعادل حجم الأرض ٧٦٣ مرة

.....

٣- عدد من الكويكبات الصغيرة تأخذ شكل حزام بين كوكبي المريخ والمشتري

.....

٤- التابع الوحيد لكوكب الأرض

.....

بم تفسر:

السؤال الثاني

١- تعد الشمس مصدرًا للحياة على كوكب الأرض

.....
.....

٢- نشأة السدم

.....
.....

٣- يعرف كوكب الزهرة بتوأم الأرض

.....
.....

٤- عدم وصول الشهب إلى سطح الأرض

.....
.....

السؤال الثالث

أ ما النتائج التي ترتبت على:

١- موقع الأرض المتوسط من الشمس

.....

.....

٢- بعد الكواكب الخارجية عن الشمس

.....

.....

ب ماذا يحدث إذا: كان كوكب الأرض أقرب الكواكب بالنسبة للشمس

.....

ج ما العلاقة بين: كوكب الأرض - القمر

.....

.....

أ استخرج الاسم الجغرافي غير المناسب مع ذكر السبب

السؤال الرابع

عطارد - نبتون - زحل - أورانوس

.....

ب ضع علامة صواب أمام العبارة الصحيحة وعلامة خطأ أمام العبارة الخاطئة

١- الشمس النجم الوحيد المضيء بمجموعتنا الشمسية .

.....

٢- الكواكب الخارجية بطيئة الدوران حول الشمس

.....

٣- تتكون الحلقات الحلزونية حول كوكب نبتون من كتل جليدية

.....

أ ما المقصود بـ

السؤال الخامس

١- الأقمار


.....

ب في الشكل الذي أمامك وضع ما تدل عليه الأرقام

١- كوكب

٢- كوكب

٣- مسار الكوكب



الدرس الأول: وحدة شعب

نموذج إمتحان

السؤال الأول أ اكتب ما تشير إليه كل عبارة من العبارات الآتية:

- ١- أحد مراحل الوحدة تميزت فيه حياة السكان بالتعاون
- ٢- شعار مملكة الجنوب
- ٣- العصر الذي سكن فيه المصري القديم الكهوف
- ٤- العصر الذي كان فيه المصري القديم أكثر استقرارًا

ب بم تفسر:

- ١- تسمية الملك مينا بملك الأرضيين

- ٢- إنشاء الملك مينا لقلعة الجدار الأبيض

- ٣- عاش المصري القديم حياة غير مستقرة في العصر الحجري القديم

- ٤- نشأة القرى في مصر القديمة

السؤال الثاني أ أسئلة متنوعة (فكر وابدع):

- ١- ما العلاقة بين: جفاف الهضاب المصريه قديمًا والزراعة

٢- ما المقصود ب: العصور التاريخية

.....

.....

٣- ماذا يحدث إذا: لم يتوصل الإنسان المصري القديم إلى الزراعة

.....

.....

٤- ما الأثر الناتج عن: اكتشاف المصري القديم للنار

.....

.....

ب) انقل العبارات الآتية في ورقة إجابتك مع تصويب ما تحته خط:

.....

١- قام الملك مينا ببناء مدينة بوتو

.....

٢- عبد أهل مملكة الجنوب الثعبان

.....

٣- جاء الملك مينا من مدينة منف

.....

٤- أسس الملك مينا الأسرة الرابعة في تاريخ الأسرات المصرية

ج) اختر الإجابة الصحيحة مما بين الأقواس:

١- كانت عاصمة مملكة الشمال مدينة

(منف - بوتو - نخب - أون)

٢- كان المصري القديم دائم التنقل فوق الهضاب في العصر

(الحجري القديم - الحجري الحديث - النحاسي - العتيق)

٣- عرف المصري القديم الزراعة في العصر

(الحجري الحديث - الحجري القديم - النحاسي - العتيق)

٤- كانت مناجم النحاس توجد في

(الوادي - الصحراء الشرقية - سيناء - الدلتا)

الدرس الثاني: عصر بناء الأهرامات

نموذج إمتحان

السؤال الأول أ اكتب ما تشير إليه كل عبارة من العبارات الآتية:

١- استخرج النحاس والفيروز من سيناء

٢- طردوا الآسيويين من مصر

٣- أول من غير في أسلوب عمارة المقابر الملكية

٤- تمثل نحت كرمز لشجاعة وحكمة الملك الذي أمر بنحته

ب ما العوامل التي أدت إلى:

١- تسمية هرم سقارة بالمدج

٢- قوة ملوك الدولة القديمة واستقرارها حتى الأسرة الخامسة

٣- نقش جدران المقابر بالمناظر المعتادة وتزويدها بالطعام والشراب

٤- انتهاء حكم أسرة إهناسيا سريعاً

السؤال الثاني أ أسئلة متنوعة (فكر وابدع):

١- ما العلاقة بين: حكام طيبة وعصر الدولة الوسطى

٢- ما المقصود بـ: عصر اضمحلال

.....

.....

٣- ماذا يحدث إذا: لم تؤثر عوامل الزمن على هرم خوفو

.....

.....

٤- ما النتائج التي ترتبت على: العقيدة الدينية لقدماء المصريين بعودة الروح والحياة الأبدية

.....

.....

ب) انقل العبارات الآتية في ورقة إجابتك مع تصويب ما تحته خط:

- ١- اهتم ملوك الأسرة الثامنة ببناء المسلات الضخمة
- ٢- صاحب الهرم الأصغر خفرع
- ٣- تم بناء معابد الشمس في عهد الأسرة الثالثة
- ٤- يضم عصر الاضمحلال الأول الأسرات ٥ : ١٠

ج) اختر الإجابة الصحيحة مما بين الأقواس:

- ١- استطاع حكام إسقاط الأسرة العاشرة وإعادة الوحدة الوطنية (منف - طيبة - بني سويف - فينيقيا)
- ٢- سمي عصر الدولة القديمة بعصر (الرخاء الاقتصادي - المجد الحربي - بناء الأهرامات - الملوك العظام)
- ٣- أمن حدود مصر الجنوبية والشرقية (سنفرو- خوفو- منكاورع - أوسر كاف)
- ٤- تعرضت مصر لهجمات خارجيه من بعد سقوط عصر الدولة القديمة (الشرق - الغرب - الشمال - الجنوب)